

МИНИСТЕРСТВО НАУКИ И ВЫСШЕГО ОБРАЗОВАНИЯ РОССИЙСКОЙ
ФЕДЕРАЦИИ

ФЕДЕРАЛЬНОЕ ГОСУДАРСТВЕННОЕ АВТОНОМНОЕ ОБРАЗОВАТЕЛЬНОЕ УЧРЕЖДЕНИЕ ВЫСШЕГО ОБРАЗОВАНИЯ
«Национальный исследовательский ядерный университет «МИФИ»

Нововоронежский политехнический институт –

филиал федерального государственного автономного образовательного учреждения высшего образования
«Национальный исследовательский ядерный университет «МИФИ»
(НВПИ НИЯУ МИФИ)

УТВЕРЖДЕН:

Педагогическим советом

«17» *сентября* 2023г., протокол № 550

**ФОНД
ОЦЕНОЧНЫХ СРЕДСТВ**

«Экономика»

Направление подготовки: 27.03.04 Управление в технических системах

Наименование образовательной программы бакалавриата: Управление
и информатика в технических системах

Уровень образования: бакалавриат

Форма обучения: очная

Нововоронеж 2023 г.

Паспорт фонда оценочных средств

1. Модели контролируемых компетенций:

Оценочные средства для контроля по дисциплине направлены на проверку знаний и умений студентов, являющихся основой формирования у обучающихся компетенции:

УК-1 Способен осуществлять поиск, критический анализ и синтез информации, применять системный подход для решения поставленных задач

З-УК-1 Знать: методики сбора и обработки информации; актуальные российские и зарубежные источники информации в сфере профессиональной деятельности; метод системного анализа

У-УК-1 Уметь: применять методики поиска, сбора и обработки информации; осуществлять критический анализ и синтез информации, полученной из разных источников

В-УК-1 Владеть: методами поиска, сбора и обработки, критического анализа и синтеза информации; методикой системного подхода для решения поставленных задач

УК-10 Способен принимать обоснованные экономические решения в различных областях жизнедеятельности

З-УК-10 Знать: основные документы, регламентирующие финансово профессиональной деятельности; источники финансирования профессиональной деятельности; принципы планирования экономической деятельности; критерии оценки затрат и обоснованности экономических решений

У-УК-10 Уметь: обосновывать принятие экономических решений в различных областях жизнедеятельности на основе учета факторов эффективности; планировать деятельность с

учетом экономически оправданные затрат, направленных на достижение результата

В-УК-10 Владеть: методикой анализа, расчета и оценки экономической целесообразности планируемой деятельности (проекта), его финансирования из внебюджетных и бюджетных источников

УК-1 Способен осуществлять поиск, критический анализ и синтез информации, применять системный подход для решения поставленных задач

З-УК-1 Знать: методики сбора и обработки информации; актуальные российские и зарубежные источники информации в сфере профессиональной деятельности; метод системного анализа

У-УК-1 Уметь: применять методики поиска, сбора и обработки информации; осуществлять критический анализ и синтез информации, полученной из разных источников

В-УК-1 Владеть: методами поиска, сбора и обработки, критического анализа и синтеза информации; методикой системного подхода для решения поставленных задач

Индекс компетенции	Проектируемые результаты освоения дисциплины «Экономическая теория» и индикаторы формирования компетенций			Средства и технологии оценки
	Знания (З)	Умения (У)	Навыки (В)	
УК-1, УК-10,	З1, З2	У1, У2, У3	В1, В2, В3	Тесты, зачет

УК-11				
УК-1, УК-10,	31, 32	У1, У2, У3	В1	Тесты, зачет
УК-1, УК-10,	31, 32	У1, У2, У3	В1, В2, В3	Тесты, зачет

Формой аттестации по дисциплине является экзамен, проводимый в форме интернет-тестирования на сайте WWW.i-exam.ru и в тестовой форме.

2. Программа оценивания контролируемых компетенций:

Структура дисциплины

№	Наименование раздела	Текущий контроль (недели и обязательные текущие контрольные мероприятия)	Рубежный контроль (неделя и форма контроля раздела)	Максимальный /минимальный балл	Реализуемые компетенции	Связь с последующими дисциплинами
1	Введение в экономическую теорию	2Т	4Т	30/18	УК-1, УК-10, УК-11	Экономика атомной энергетики
2	Микроэкономика	8Т	12Т	30/18	УК-1, УК-10, УК-11	Экономика атомной энергетики
3	Макроэкономика	14Т	16Т	30/18	УК-1, УК-10, УК-11	Экономика атомной энергетики
	Зачет			10/6		
	Итого			100/60		

Формой аттестации по дисциплине является зачет, проводимый в форме интернет-тестирования на сайте WWW.i-exam.ru и в тестовой форме.

Программа оценивания контролируемых компетенций по разделам:

№ п/п	Контролируемые модули, разделы (темы) дисциплины*	Код контролируемой компетенции (или ее части)	Наименование оценочного средства**
1	Введение в экономику	УК-1, УК-10,	Тест № 1, Тест №2
2	Микроэкономика	УК-1, УК-10,	Тест № 3, Тест № 4
3	Макроэкономика	УК-1, УК-10,	Тест № 5, Тест № 6

Зачет выставляется преподавателем с учетом всех представленных студентами работ по дисциплине в течение семестра.

Формулировка результата	Показатели освоения результата	Средства оценки	Формируемые компетенции
В результате освоения дисциплины студент должен знать:			
- основные категории и понятия экономической теории;	- знает и понимает основные категории и понятия экономической теории;	тестирование	УК-1, УК-10,

	- анализирует сущность понятий «факторы производства», «собственность», «потребности», «издержки», «спрос», «предложение», «цена»; - самостоятельно выявляет сущность и взаимосвязь основных категорий экономической теории		
- экономические системы	- понимает и может объяснить основные элементы экономических систем	тестирование	УК-1, УК-10,
- модели микроэкономической теории	- основные институты рыночной экономики; - характеризует экономическую теорию прав собственности; - самостоятельно анализирует трансакционные издержки	тестирование	УК-1, УК-10,
- модели неоклассической микроэкономической теории	- дает характеристику взаимодействия спроса и предложения; - знает суть теории потребительского поведения; - понимает теорию потребления фирмы, издержки и доходы фирмы; - характеризует производство и ценообразование рыночных структур	тестирование,	УК-1, УК-10,
- основные макроэкономические показатели и принципы их расчета	- понимает формирование ВВП; - знает методы расчета ВВП	тестирование	УК-1, УК-10,
- о экономических проблемах, связанных с макроэкономической нестабильностью	- понимает суть инфляционных процессов в экономике; - характеризует сущность, виды, измерение безработицы	тестирование	УК-1, УК-10,
государственное регулирование экономики	- понимает цели, задачи и направления кредитно-денежной и фискальной политики государства; - определяет сущность экономического роста и тенденции развития мировой экономики.	тестирование	УК-1, УК-10,
В результате освоения дисциплины студент должен уметь:			
- анализировать процессы и явления, происходящие в обществе	- обладает умением работать с информацией, умением принять правильное решение на основе анализа ситуации; - обладает навыками четкого и точного изложения собственной точки зрения в устной и письменной форме, убедительного отстаивания своей точки зрения;	тестирование	УК-1, УК-10,
- проводить анализ отрасли (рынка), используя экономические модели	- владеет навыками анализа основных экономических проблем общества, пониманием основных закономерностей общества и социальных процессов	тестирование	УК-1, УК-10,

	- демонстрирует навыки применения формул для расчета экономических показателей		
- использовать экономический инструментарий для анализа внешней и внутренней среды бизнеса (организации)	-применяет полученные теоретические знания для анализа внешней и внутренней среды организации	тестирование	УК-1, УК-10,

Перечень оценочных средств

№ п/п	Наименование оценочного средства	Краткая характеристика оценочного средства	Представление оценочного средства в фонде
1	2	3	4
1	Тест	Система стандартизированных заданий, позволяющая автоматизировать процедуру измерения уровня знаний и умений обучающегося.	Фонд тестовых заданий

3. Оценочные средства

Входной контроль

1. Общее собрание акционеров предприятия одобрило передачу 30% акций правительству и решило сократить на 60% аппарат генеральной дирекции завода. Это вид экономической деятельности в сфере

- 1) производства,
- 2) обмена,
- 3) распределения,
- 4) потребления.

2. В развитых странах действуют национальные системы социального обеспечения, содействующие росту жизненного уровня, развитию образования и здравоохранения. Это вид экономической деятельности в сфере

- 1) производства,
- 2) обмена,
- 3) распределения,
- 4) потребления.

3. Выделение денежных средств из государственного бюджета на поддержку фундаментальных исследований и содействие научно-техническому прогрессу характеризует экономическую деятельность государства в сфере

- 1) производства
- 2) обмена,
- 3) распределения,
- 4) потребления.

4. Выделение российским правительством в условиях демографического спада дополнительных средств из государственного бюджета на помощь семьям, имеющим детей, характеризует экономическую деятельность государства в сфере

- 1) производства,
- 2) обмена,
- 3) распределения,
- 4) потребления.

5. Верны ли суждения о производстве?

- А. Разделение труда способствует повышению его производительности.
- Б. Росту объемов производства способствует увеличение налогов на производителя.

- 1) верно только А,
- 2) верно только Б,
- 3) верны оба суждения,
- 4) оба суждения неверны.

6. Какое из проявлений характеризует потребление как сферу экономики?

- 1) приобретение мебели в кредит,
- 2) посещение курсов повышения квалификации,
- 3) внедрение новой технологии,
- 4) увеличение расходов бюджета на социальные программы.

7. Запишите слово, пропущенное в таблице

Виды экономической деятельности	Их сущность
	Процесс движения товаров и услуг от одного участника экономической деятельности к другому
Распределение	Процесс распределения доли, в которой участники хозяйственной деятельности участвуют в произведённом продукте

8. Терпящая убытки фирма привлекла талантливого кризис-менеджера, который за год смог вывести ее из кризисного состояния. Какой фактор производства был использован фирмой в первую очередь?

- 1) информация,
- 2) предпринимательские способности,
- 3) земля,
- 4) капитал.

9. Фактором производства являются

- 1) методы планирования объемов производства,
- 2) способы распределения прибыли,
- 3) источники финансирования предприятия,
- 4) промышленные станки и оборудование.

10. Верны ли суждения о факторах производства?

- А. В современной экономике важнейшим фактором производства становится информация.
- Б. Количество используемых в экономике факторов производства ограничено.

- 1) верно только А,
- 2) верно только Б,
- 3) верны оба суждения,
- 4) оба суждения неверны.

11. Установите соответствие между факторами производства и их примерами: к каждой позиции, данной в первом столбце, подберите соответствующую позицию из второго столбца.

А) токарный станок

Б) каменный уголь

В) наладчик оборудования

1) земля

2) труд

3) капитал

Г) офис фирмы

Д) менеджер

12. Верны ли суждения о затратах фирмы?

А. Заработная плата работников не относится к затратам фирмы.

Б. Затраты фирмы влияют на цену товаров и услуг, производимых фирмой.

- 1) верно только А,
- 2) верно только Б,
- 3) верны оба суждения,
- 4) оба суждения неверны.

13. Верны ли суждения о затратах фирмы?

А. Затраты фирмы отражают стоимость используемых факторов производства.

Б. Затраты фирмы не всегда зависят от объёма произведённой продукции.

- 1) верно только А,
- 2) верно только Б,
- 3) верны оба суждения,
- 4) оба суждения неверны.

14. Запишите слово, пропущенное в таблице

Виды затрат	Их сущность
Внутренние (или неявные)	стоимость собственного ресурса – равны денежным выплатам, которые могли бы быть получены за самостоятельно используемый ресурс, если бы его собственник вложил его в чужое дело
	выплаты поставщикам трудовых ресурсов, сырья, топлива, услуг и т.д

15. Установите соответствие видов налогов:

к каждой позиции, данной в первом столбце, подберите соответствующую позицию из второго столбца.

А) подоходный	1) прямые налоги
Б) на имущество	2) косвенные налоги
В) акцизный сбор	
Г) на наследство	
Д) на добавленную стоимость	

16. Найдите в приведенном списке примеры, относящиеся к земле как фактору производства, и запишите цифры, под которыми они указаны.

- 1) денежные средства
- 2) участок пашни
- 3) залежи нефти
- 4) станки и оборудование
- 5) лесной массив
- 6) здания, сооружения

17. Найдите в приведенном списке проявления экономической сферы общественной жизни, и запишите цифры, под которыми они указаны.

- 1) инфляция,
- 2) победа на выборах оппозиционной партии,
- 3) митинг в защиту конституции,
- 4) снижение темпов промышленного роста,
- 5) введение налога с продаж,

б) учредительный съезд партии.

18. Найдите в приведенном списке характеристики, присущие любому налогу, и запишите цифры, под которыми они указаны.

- 1) обязательность уплаты,
- 2) безвозмездность,
- 3) пропорциональность доходу,
- 4) возвратный характер,
- 5) законодательное установление.

19. Обведите в приведенном списке те категории населения, которые включаются в численность рабочей силы, и обведите цифры, под которыми они указаны.

- 1) домохозяйки,
- 2) частично занятые на производстве,
- 3) не имеющие работы, но активно ее ищущие,
- 4) отбывающие срок заключения в тюрьмах,
- 5) работающие по гибкому графику.

20. Установите соответствие между видами рынков и объектами спроса и предложения на этих рынках:

к каждой позиции, данной в первом столбце, подберите соответствующую позицию из второго столбца.

А) бытовая техника	1) рынок труда
Б) иностранная валюта	2) рынок капиталов
В) услуги адвоката	3) рынок товаров
Г) муниципальные облигации	
Д) страхование жизни	

Ответы:

1 – 1;

2 – 3;

3 – 3;

4 – 3;

5 – 1;

6 – 2;

7 – обмен.

8 – 2;

9 – 4;

10 – 3;

11 – А – 3, Б – 1, В – 2, Г – 3, Д – 2;

12 – 2;

13 – 3;

14 – внешние (явные, бухгалтерские).

15 – А – 1, Б – 1, В – 2, Г – 1, Д – 2;

16 – 235;

17 – 145;

18 – 125;

19 – 235

20 – А – 3, Б – 2, В – , Г – 1, Д – 2, Е – 3.

Входной контроль проводится для определения уровня знаний, с которым студенты начинают изучение дисциплины. Входной контроль проводится без оценок.

РАЗДЕЛ: «Введение в экономику»

ТЕСТ № 1

Вариант 1

ЗАДАНИЕ N 1 (- выберите один вариант ответа)

Критерием деления на макроэкономику и микроэкономику является

а) особенности применяемых ограниченных ресурсов

б) масштаб изучаемого объекта

в) отсутствие или наличие оценочных суждений

г) степень связи с экономической политикой

ЗАДАНИЕ N 2 (- выберите один вариант ответа)

Упрощенное представление о взаимосвязях между экономическими переменными называется экономической

а) теорией

б) категорией

в) гипотезой

г) моделью

ЗАДАНИЕ N 3 (- выберите один вариант ответа)

Предметом экономической теории является

а) производство благ и услуг

б) рыночная экономика

в) совокупность экономических отношений

г) обеспеченность ресурсами

ЗАДАНИЕ N 4 (- выберите один вариант ответа)

Заполните пропуск _____ является доходом на капитал.

а) Заработная плата

в) Процент

б) Прибыль

г) Рента

ЗАДАНИЕ N 5 (- выберите один вариант ответа)

Позволяет измерять количественные параметры взаимодействия явлений, создавать экономические модели. Решать вопросы оптимизации многовариантных способов достижения цели метод

а) абстракции

б) функциональный

в) каузальный

г) индукции

д) дедукции

ЗАДАНИЕ N 6 (- выберите один вариант ответа)

_____ - это устойчивые связи и взаимосвязи экономических явлений в процессе производств, обмена и потребления материальных благ и услуг.

а) экономическая модель

б) экономические категории

в) экономические законы

г) закон природы

ЗАДАНИЕ N 7 (- выберите один вариант ответа)

Неразработанное нефтяное месторождение может служить примером:

а) естественных ресурсов;

б) капитала;

в) земли;

г) рынка.

ЗАДАНИЕ N 8 (- выберите один вариант ответа)

Индукция – это метод, основанный ...

а) на выявлении существенных, характерных черт экономического явления

б) на разделении экономического явления на отдельные части

в) на умозаклчениях от общего к частному

г) на умозаклчениях от частного к общему

ЗАДАНИЕ N 9 (- выберите один вариант ответа)

Фундаментальная проблема экономики состоит в противоречии между безграничными потребностями и...

а) исчерпаемостью полезных ископаемых

б) ограниченными ресурсами

в) нехваткой денежных средств

г) возможностями их удовлетворения

ЗАДАНИЕ N 10 (- выберите один вариант ответа)

Под производством понимается

а) решение вопроса «что производить»

б) решение вопроса «для кого производить»

в) процесс создания товаров и услуг

г) процесс труда

ЗАДАНИЕ N 11 (выберите один вариант ответа)

Пользование как элемент системы отношений собственности, с экономической точки зрения это

а) лишение данного лица возможности использовать некий предмет в производстве и потреблении, что и происходит в процессе продажи объекта собственности;

б) неполное присвоение, позволяющее владельцу присваивать часть дохода от использования не принадлежащих ему средств производства;

в) элемент системы отношений собственности, который выражается в том, что никто не может использовать средства производства, не вступая в отношения с их собственником;

г) оперирование средствами производства в производственном процессе

д) управление использованием собственности

ЗАДАНИЕ N 12(выберите один вариант ответа)

Отчуждение как элемент системы отношений собственности, с экономической точки зрения это

а) лишение данного лица возможности использовать некий предмет в производстве и потреблении, что и происходит в процессе продажи объекта собственности;

б) неполное присвоение, позволяющее владельцу присваивать часть дохода от использования не принадлежащих ему средств производства;

в) элемент системы отношений собственности, который выражается в том, что никто не может использовать средства производства, не вступая в отношения с их собственником;

г) оперирование средствами производства в производственном процессе

д) управление использованием собственности

ЗАДАНИЕ N 13(выберите один вариант ответа)

Владение как элемент системы отношений собственности, с экономической точки зрения это

а) лишение данного лица возможности использовать некий предмет в производстве и потреблении, что и происходит в процессе продажи объекта собственности;

б) неполное присвоение, позволяющее владельцу присваивать часть дохода от использования не принадлежащих ему средств производства;

в) элемент системы отношений собственности, который выражается в том, что никто не может использовать средства производства, не вступая в отношения с их собственником;

г) оперирование средствами производства в производственном процессе

д) управление использованием собственности

ЗАДАНИЕ N 14 (выберите варианты согласно тексту задания)

Установите соответствие между терминами и их содержанием

1) Доваучерная приватизация.

2) Ваучерный (чековый)

3)Послечековый этап приватизации

А) Основным содержанием этапа приватизации стало создание широкого слоя собственников главным образом мелких акционеров, путем безвозмездной передачи госсобственности, преобразования государственных предприятий в акционерные общества открытого типа и продажи, как правило малых предприятий, по конкурсу и на аукционе.

Б) Приватизация проводилась в основном в форме выкупа арендованного имущества и охватывала главным образом сферу социальной инфраструктуры: торговлю, бытовое обслуживание общественное питание, гостиничное хозяйство и т.д.

В) Основным содержанием этого этапа была продажа как самих предприятий (с аукциона и по конкурсу), так и акций предприятий, акционированных в порядке приватизации, за деньги.

1) Б 2) А 3) В

ЗАДАНИЕ N 15 (*выберите один вариант ответа*)

Распоряжение как элемент системы отношений собственности, с экономической точки зрения это

- а) лишение данного лица возможности использовать некий предмет в производстве и потреблении, что и происходит в процессе продажи объекта собственности;
- б) неполное присвоение, позволяющее владельцу присваивать часть дохода от использования не принадлежащих ему средств производства;
- в) элемент системы отношений собственности, который выражается в том, что никто не может использовать средства производства, не вступая в отношения с их собственником;
- г) оперирование средствами производства в производственном процессе
- д) управление использованием собственности**

Вариант 2

ЗАДАНИЕ N 1 (*выберите варианты согласно тексту задания*)

Установите соответствие между понятием и его содержанием:

- 1) анализ;
- 2) синтез;
- 3) индукция;
- 4) дедукция.

ВАРИАНТЫ ОТВЕТОВ:

А) метод умозаключений, основанный на распространении общего суждения на единичные факты

В) метод умозаключений, основанный на обобщении фактов

С) мышление, которое сориентировано на выявление того общего, что связывает отдельные стороны явлений

Д) мышление, которое направлено на выявление специфических свойств в явлениях

1) Д) 2) С) 3) В) 4) А)

ЗАДАНИЕ N 2 (*- выберите несколько вариантов ответа*)

К предмету изучения микроэкономики относятся...

- а) занятость населения в народном хозяйстве
- б) спрос и предложение на рынке молока**
- в) производство в масштабе всей экономики
- г) производство сахара и динамика его цены**

ЗАДАНИЕ N 3 (*- выберите один вариант ответа*)

Нормативная экономика пытается ответить на вопрос

- а) что есть?
- б) что будет?
- в) как должно быть?**

г) что было?

ЗАДАНИЕ N 4 (- выберите несколько вариантов ответа)

К материальным благам можно отнести

а) безалкогольные напитки

б) лекции в университете

в) услуги парикмахера

г) автомобили

ЗАДАНИЕ N 5 (- выберите один вариант ответа)

Блага, используемые для производства других благ, есть:

а) факторы производства;

б) основной капитал;

в) информация;

г) предпринимательская деятельность.

ЗАДАНИЕ N 6 (- выберите несколько вариантов ответа)

Производство как экономическая категория представляет собой ...

а) процесс преобразования экономических ресурсов в готовый продукт

б) совокупность производящих хозяйственных единиц

в) процесс взаимодействия людей с природой для создания продуктов, удовлетворяющих потребности человека

г) занятость населения в народном хозяйстве

ЗАДАНИЕ N 7 (- выберите один вариант ответа)

Позитивная экономика занимается...

а) использованием экономических законов и принципов при решении определенных социально-экономических задач

б) определением величины имеющихся ресурсов

в) поиском путей выхода из кризиса

г) выявлением содержательной стороны экономических процессов и явлений

ЗАДАНИЕ N 8 (- выберите один вариант ответа)

Заполните пропуск _____ является доходом на предпринимательство.

а) Заработная плата

в) Процент

б) Прибыль

г) Рента

ЗАДАНИЕ N 9 (- выберите несколько вариантов ответа)

к экономическим ресурсам **не относятся**

а) естественные ресурсы

б) повседневные потребительские товары

в) предметы домашнего обихода

г) труд и предпринимательская способность

ЗАДАНИЕ N 10 (- выберите один вариант ответа)

К факторам производства относятся

а) земля, финансы, предметы труда, бизнес

б) земля, средства труда финансы, предпринимательские способности

в) земля, труд, капитал, предпринимательские способности

г) природные ресурсы, предметы труда. капитал. бизнес

ЗАДАНИЕ N 11 (выберите один вариант ответа)

Пользование как элемент системы отношений собственности, с экономической точки зрения это

а) лишение данного лица возможности использовать некий предмет в производстве и потреблении, что и происходит в процессе продажи объекта собственности;

б) неполное присвоение, позволяющее владельцу присваивать часть дохода от использования не принадлежащих ему средств производства;

в) элемент системы отношений собственности, который выражается в том, что никто не может использовать средства производства, не вступая в отношения с их собственником;

г) оперирование средствами производства в производственном процессе

д) управление использованием собственности

ЗАДАНИЕ N 12 (выберите один вариант ответа)

Отчуждение как элемент системы отношений собственности, с экономической точки зрения это

а) лишение данного лица возможности использовать некий предмет в производстве и потреблении, что и происходит в процессе продажи объекта собственности;

б) неполное присвоение, позволяющее владельцу присваивать часть дохода от использования не принадлежащих ему средств производства;

в) элемент системы отношений собственности, который выражается в том, что никто не может использовать средства производства, не вступая в отношения с их собственником;

г) оперирование средствами производства в производственном процессе

д) управление использованием собственности

ЗАДАНИЕ N 13 (выберите один вариант ответа)

Владение как элемент системы отношений собственности, с экономической точки зрения это

а) лишение данного лица возможности использовать некий предмет в производстве и потреблении, что и происходит в процессе продажи объекта собственности;

б) неполное присвоение, позволяющее владельцу присваивать часть дохода от использования не принадлежащих ему средств производства;

в) элемент системы отношений собственности, который выражается в том, что никто не может использовать средства производства, не вступая в отношения с их собственником;

г) оперирование средствами производства в производственном процессе

д) управление использованием собственности

ЗАДАНИЕ N 14 (выберите варианты согласно тексту задания)

Установите соответствие между терминами и их содержанием

1) Доваучерная приватизация.

2) Ваучерный (чековый)

3)Послечековый этап приватизации

А) Основным содержанием этапа приватизации стало создание широкого слоя собственников главным образом мелких акционеров, путем безвозмездной передачи госсобственности, преобразования государственных предприятий в акционерные общества открытого типа и продажи, как правило малых предприятий, по конкурсу и на аукционе.

Б) Приватизация проводилась в основном в форме выкупа арендованного имущества и охватывала главным образом сферу социальной инфраструктуры: торговлю, бытовое обслуживание общественное питание, гостиничное хозяйство и т.д.

В) Основным содержанием этого этапа была продажа как самих предприятий (с аукциона и по конкурсу), так и акций предприятий, акционированных в порядке приватизации, за деньги.

1)Б 2) А 3) В

ЗАДАНИЕ N 15 (выберите один вариант ответа)

Распоряжение как элемент системы отношений собственности, с экономической точки зрения это

а) лишение данного лица возможности использовать некий предмет в производстве и потреблении, что и происходит в процессе продажи объекта собственности;

б) неполное присвоение, позволяющее владельцу присваивать часть дохода от использования не принадлежащих ему средств производства;

в) элемент системы отношений собственности, который выражается в том, что никто не может использовать средства производства, не вступая в отношения с их собственником;

- г) оперирование средствами производства в производственном процессе
- д) **управление использованием собственности**

ТЕСТ № 2

Вариант 1

ЗАДАНИЕ N 1 (- выберите один вариант ответа)

Таковыми категориями, как «совокупная добавленная стоимость», «среднедушевой доход», «потребление», «сбережение», оперирует раздел экономической науки под названием ...

- а) микроэкономика,
- б) мезоэкономика,
- в) макроэкономика,**
- г) гигаэкономика.

ЗАДАНИЕ N 2 (- выберите один вариант ответа)

Если экономические обобщения основываются на фактах, то такой метод анализа является?

- а) описательным
- б) гипотетическим
- в) дедуктивным
- г) индуктивным**

ЗАДАНИЕ N 3 (выберите несколько вариантов ответа)

Под экономическими отношениями понимают...

- а) взаимодействие человека со средствами производства
- б) способы переработки материалов в конечный продукт
- в) отношения, возникающие в процессе общественного производства**
- г) отношения производства, распределения, обмена и потребления**

ЗАДАНИЕ N 4 (- выберите несколько вариантов ответа)

К субъектам рыночных отношений следует отнести

- а) деньги
- б) домохозяйства**
- в) фирмы (бизнес)**
- г) станки

ЗАДАНИЕ N 5 (выберите варианты согласно тексту задания)

Установите соответствие между терминами и их содержанием

- 1) Доваучерная приватизация.
- 2) Ваучерный (чековый)
- 3) Послечековый этап приватизации

А) Основным содержанием этапа приватизации стало создание широкого слоя собственников главным образом мелких акционеров, путем безвозмездной передачи госсобственности, преобразования государственных предприятий в акционерные общества открытого типа и продажи, как правило малых предприятий, по конкурсу и на аукционе.

Б) Приватизация проводилась в основном в форме выкупа арендованного имущества и охватывала главным образом сферу социальной инфраструктуры: торговлю, бытовое обслуживание общественное питание, гостиничное хозяйство и т.д.

В) Основным содержанием этого этапа была продажа как самих предприятий (с аукциона и по конкурсу), так и акций предприятий, акционированных в порядке приватизации, за деньги.

- 1)Б 2) А 3) В

ЗАДАНИЕ N 6 (выберите один вариант ответа)

Экономика некоторой страны находится в точке Г на границе своих производственных возможностей, которые отражены в таблице:

Вид товара, ед.изм.	Производственные альтернативы				
	А	Б	В	Г	Д
Инвестиционные товары, тыс.шт.	0	20	35	50	60
Потребительские товары, млн.шт.	100	95	80	50	0

Альтернативная стоимость производства 1 млн шт. потребительских товаров при изменении ситуации до описываемой точкой В составляет ___ тыс. шт. инвестиционных товаров.

- а) 1 б) 0,3125 в) 2 г) **0,5**

ЗАДАНИЕ N 7 (выберите один вариант ответа)

Ограниченность ресурсов означает, что:

- а) в обществе они имеются в таком количестве, которого недостаточно для производства необходимых товаров и услуг;
б) с их помощью невозможно одновременное и полное удовлетворение всех имеющихся потребностей;
 в) ресурсов хватает только на производство предметов потребления;
 г) нет верного ответа.

ЗАДАНИЕ N 8 (выберите один вариант ответа)

Кривая производственных возможностей показывает:

- а) альтернативную комбинацию товаров при наличии данного количества ресурсов;**
 б) лучшую из возможных комбинацию двух товаров;
 в) точные количества двух товаров, которые хозяйство намерено производить;
 г) время, когда вступает в действие закон убывающей производительности факторов производства.

ЗАДАНИЕ N9 (выберите один вариант ответа)

Если экономика движется по выпуклой кривой производственных возможностей вправо и вниз, то это означает, что:

- а) альтернативные издержки снижаются;
 б) альтернативные издержки постоянны;
в) альтернативные издержки увеличиваются

ЗАДАНИЕ N10 (выберите один вариант ответа)

Отказавшись от работы столяром с зарплатой 1,2 тыс. рублей в месяц или от работы референтом за 1 тыс. рублей в месяц, Иван поступил в колледж, где плата за обучение составляла 600 рублей в месяц. Какова альтернативная стоимость его решения?

- а) 1,8 тыс. руб.**
 б) 1,2 тыс. руб.
 в) 2,8 тыс. руб.
 г) 0,6 тыс. руб.
 д) 2,2 тыс. руб.

ЗАДАНИЕ N 11 (- выберите несколько вариантов ответа)

К основным характеристикам шведской модели смешанной экономики относятся

- а) ставка на личный успех, непризнание социального равенства
б) огромная роль государства в обеспечении высокого уровня жизни
 в) поощрение и свобода предпринимательской деятельности
г) эффективная социальная политика

ЗАДАНИЕ N 12 (- выберите несколько вариантов ответа)

Для традиционной экономики характерны

- а) распределение благ на основе обычаев**

б) замкнутость, низкая производительность труда

в) преобладание государственной собственности, отсутствие конкуренции

г) экономическая свобода, совершенная конкуренция

ЗАДАНИЕ N 13 (- выберите несколько вариантов ответа)

К основным характеристикам американской модели относятся

а) государственное планирование и государственные программы

б) огромная роль государства в обеспечении высокого уровня жизни

в) поощрение и свобода предпринимательской деятельности

г) ставка на личный успех, непризнание социального равенства

ЗАДАНИЕ N 14 (- выберите один вариант ответа)

В экономической системе, называемой постиндустриальным обществом, ведущим сектором является ...

а) промышленность

б) сельское хозяйство

в) наука

г) банки

ЗАДАНИЕ N 15 (- выберите один вариант ответа)

Развитая система пожизненного найма на работу характерна для смешанной экономики ...

а) России

б) США

в) Швеции

г) Японии

Вариант 2

ЗАДАНИЕ N 1 (- выберите несколько вариантов ответа)

Производство как экономическая категория представляет собой ...

а) процесс преобразования экономических ресурсов в готовый продукт

б) совокупность производящих хозяйственных единиц

в) процесс взаимодействия людей с природой для создания продуктов, удовлетворяющих потребности человека

г) занятость населения в народном хозяйстве

ЗАДАНИЕ N 2 (- выберите несколько вариантов ответа)

К основному капиталу относятся

а) сырье

б) производственные здания

в) машины и оборудование

г) электроэнергия

ЗАДАНИЕ N 3 (- выберите один вариант ответа)

Предметом изучения экономической теории не является проблема

а) максимального удовлетворения растущих потребностей

б) эффективности использования ресурсов

в) избыточности производственных ресурсов

г) ограниченности ресурсов

ЗАДАНИЕ N 4 (- выберите один вариант ответа)

Какое из этих положений не имеет отношения к определению предмета теоретической экономики?

а) эффективное использование ресурсов

б) неограниченные производственные ресурсы

в) максимальное удовлетворение потребностей

г) материальные и духовные потребности

д) редкость блага

ЗАДАНИЕ N 5 (выберите варианты согласно тексту задания)

Установите соответствие между терминами и их содержанием

- 1) Доваучерная приватизация.
- 2) Ваучерный (чековый)
- 3) Послечековый этап приватизации

А) Основным содержанием этапа приватизации стало создание широкого слоя собственников главным образом мелких акционеров, путем безвозмездной передачи госсобственности, преобразования государственных предприятий в акционерные общества открытого типа и продажи, как правило малых предприятий, по конкурсу и на аукционе.

Б) Приватизация проводилась в основном в форме выкупа арендованного имущества и охватывала главным образом сферу социальной инфраструктуры: торговлю, бытовое обслуживание общественное питание, гостиничное хозяйство и т.д.

В) Основным содержанием этого этапа была продажа как самих предприятий (с аукциона и по конкурсу), так и акций предприятий, акционированных в порядке приватизации, за деньги.

1) Б 2) А 3) В

ЗАДАНИЕ N 6 (выберите один вариант ответа)

Экономика некоторой страны находится в точке Г на границе своих производственных возможностей, которые отражены в таблице:

Вид товара, ед. изм.	Производственные альтернативы				
	А	Б	В	Г	Д
Инвестиционные товары, тыс. шт.	0	20	40	60	80
Потребительские товары, млн шт.	100	90	70	40	0

Альтернативная стоимость производства 1 млн шт. потребительских товаров при изменении ситуации до описываемой точкой Б составляет ___ тыс. шт. инвестиционных товаров.

- а) 0,8 б) 1,25 в) 40 г) 20

ЗАДАНИЕ N 7 (выберите варианты согласно тексту задания)

Установите соответствие между терминами и их содержанием

- 1) закон убывающей эффективности производства
- 2) альтернативная затрата
- 3) экономическая эффективность

$$A) \quad ??? = \frac{\text{Максимум_результата}}{\text{Минимум_затрат}}$$

Б) По мере максимизации производства определённого продукта эффективность использования ресурсов падает это _____.

В) Потенциальная потеря тех товаров, которые могли бы быть произведены из применённых ресурсов это _____.

1) Б 2) В 3) А

ЗАДАНИЕ N 8 (выберите один вариант ответа)

В развитой рыночной экономике основными субъектами рыночных отношений выступают

- а) бизнес, государство, домашние хозяйства
- б) покупатели, продавцы, товары и услуги
- в) фирмы, люди, государство, средства производства
- г) домашние хозяйства, рынки товаров и услуг, государство

ЗАДАНИЕ N 2 (- выберите несколько вариантов ответа)

В инфраструктуру рынка включены...

- а) биржи

- б) производители товаров и услуг
- в) потребители
- г) банки

ЗАДАНИЕ N 9 (выберите варианты согласно тексту задания)

Установите соответствие между терминами и их содержанием

- 1) абсолютная ограниченность ресурсов
- 2) закон убывающей эффективности производства
- 3) альтернативная цена

А) форма кривой производственных возможностей отражает один из фундаментальных законов экономики ограниченных ресурсов – это _____ .

Б) ограниченные ресурсы, направленные на удовлетворение неограниченных потребностей это _____ .

В) потеря одного товара при дополнительном производстве другого товара в условиях полного использования ресурсов это _____ .

- 1) Б 2) А 3) В

ЗАДАНИЕ N 10 (выберите один вариант ответа)

Отказавшись от работы столяром с зарплатой 1,2 тыс. рублей в месяц или от работы референтом за 1 тыс. рублей в месяц, Иван поступил в колледж, где плата за обучение составляла 600 рублей в месяц. Какова альтернативная стоимость его решения?

- а) 2800
- б) 1800**
- в) 600
- г) 1600

ЗАДАНИЕ N 11 (выберите варианты согласно тексту задания)

Установите соответствие между терминами и их содержанием

- 1) затраты, результаты, потребности
- 2) относительная ограниченность ресурсов
- 3) альтернативная затрата

А) ограниченные ресурсы, направленные на удовлетворение ограниченных потребностей, выбранных, наиболее насущных это _____ .

Б) всеобщая формула идеально эффективной экономики должна выражать соотношение трёх величин: _____

В) потенциальная потеря тех товаров, которые могли бы быть произведены из применённых ресурсов это _____

- 1) Б 2) А 3) В

ЗАДАНИЕ N 12 (- выберите один вариант ответа)

Проблема «что, как, для кого производить» могут иметь отношение

- а) только к административно-плановой экономике
- б) к любому обществу не зависимо от его социально-политической организации**
- в) только к отсталой экономике
- г) только к рыночной экономике

ЗАДАНИЕ N 13 (- выберите несколько вариантов ответа)

Японской модели экономики присуща такая черта как ...

- а) система всемерного поощрения предпринимательской деятельности
- б) развитое планирование и координация деятельности правительства и частного сектора**
- в) отставание уровня жизни населения от развития производительных сил**
- г) сильная социальная политика

ЗАДАНИЕ N 14 (- выберите несколько вариантов ответа)

В командной экономике распределение осуществляется

- а) на основе директивного государственного планирования

- б) децентрализованно
- в) централизованно**
- г) на основе механизма «невидимой руки»

ЗАДАНИЕ N 15 (- выберите один вариант ответа)

Тип экономической системы, характерный для древнего и средневекового общества, но сохранившийся и в некоторых современных слаборазвитых государствах, называется _____ экономикой.

- а) смешанной
- б) традиционной**
- в) рыночной
- г) командной

Критерии оценки:

1. Полнота знаний теоретического контролируемого материала.
2. Количество правильных ответов.

Каждый правильный ответ оценивается в 1 балл. Максимальный балл – 15, минимальный – 9.

РАЗДЕЛ: «Микроэкономика»

ТЕСТ №3

Вариант 1

ЗАДАНИЕ N 1 (- один вариант ответа)

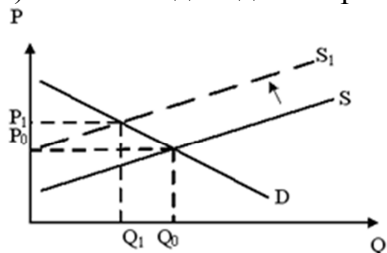
Если уменьшение цены на 5% приводит к снижению объема предложения на 8%, то данное предложение?

- а) неэластично
- б) единичной эластичности
- в) эластично**
- г) абсолютно эластично
- д) абсолютно неэластично

ЗАДАНИЕ № 2 (- выберите один вариант ответа)

Используя приведенный график, назовите причину вызвавшую сдвиг кривой предложения (S) влево и сокращение объема продаж:

- а) увеличение числа производителей данного товара
- б) повышение цен на сырье и материалы, используемые в производстве данного товара**
- в) снижение потребления товара вследствие повышения цен на него
- г) снижение доходов потребителей



ЗАДАНИЕ № 3. Если функции спроса и предложения заданы как $Q_d = 11 - P$ и $Q_s = -4 + 2P$, то цена при которой излишек составляет 6 шт. равна...

Решение $-4 + 2P - 11 + P = 6, P = 7$

ЗАДАНИЕ N 4 (- выберите один вариант ответа)

Какое из указанных ниже значений коэффициента эластичности по доходу относится к товарам первой необходимости?

- а) меньше 0
- б) больше 0, но меньше 1**
- в) больше 1
- г) 1
- д) ни одно из приведенных значений

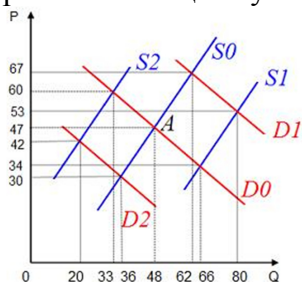
ЗАДАНИЕ № 5 (- выберите один вариант ответа)

Рыночный спрос не испытывает влияния:

- а) доходов потребителей;
- б) цен на взаимосвязанные товары;
- в) цен на ресурсы;**
- г) численности покупателей.

ЗАДАНИЕ № 6 (- выберите один вариант ответа)

Исходное равновесие на рынке данного товара соответствует точке А. Ожидается рост потребления данного товара под действием рекламы, при этом государство сокращает налоги на производителей этого товара. Вследствие этого в краткосрочном периоде равновесная цена установится на уровне ...



- а) 34; **б) 53** в) 42 г) 67

ЗАДАНИЕ № 7 Постройте графическую зависимость при:

$S(\text{предложение}) \downarrow > D(\text{спрос}) \uparrow$; $P(\text{равновесная цена}) \downarrow$; $Q(\text{равновесный объем}) \uparrow$.

Возможна ли данная ситуация?



Решение

ЗАДАНИЕ N 8 (- выберите один вариант ответа)

Закон убывающей предельной полезности означает, что:

- а) отношение предельной полезности к ценам на предметы роскоши меньше, чем на товары первой необходимости
- б) полезность, приносимая каждой последующей единицей товара, убывает по мере увеличения количества приобретаемых товаров**
- в) отношение предельных полезностей к ценам одинаково для всех товаров
- г) полезность приобретаемых товаров снижается по мере увеличения дохода потребителя

ЗАДАНИЕ № 9 (- выберите один вариант ответа)

Взаимосвязь между всеми возможными вариантами сочетаний факторов производства и объемом выпускаемой продукции выражается при помощи

- а) кривой производственных возможностей
- б) кривой общего объема выпуска продукта
- в) производственной функции**
- г) эластичности предложения
- д) кривой общих затрат.

ЗАДАНИЕ № 10 (- выберите один вариант ответа)

Изокванта иллюстрирует

- а) кривую общего объема продукта
- б) производственную функцию**
- в) различные объемы продукта, которые можно произвести при заданных количествах ресурсов
- г) кривую среднего продукта

д) кривую предельного продукта.

ЗАДАНИЕ №11 (- выберите один вариант ответа)

Какое из следующих утверждений, характеризующих связь между ТР, АР и МР, является неверным?

а) АР продолжает расти до тех пор, пока увеличивается МР

б) АР достигает максимального уровня до того, как ТР становится максимальным

в) ТР достигает максимального уровня, когда $MP = 0$

г) $MP = AP$ при максимальном уровне АР

д) ТР снижается, если $MP < 0$.

ЗАДАНИЕ № 12 (- выберите один вариант ответа)

Графическим изображением двухфакторной производственной функции в общем случае является

а) кривая средней производительности факторов

б) кривая предельной производительности факторов

в) изокванта

г) карта кривых постоянного выпуска

д) линия постоянной нормы технического замещения факторов.

ЗАДАНИЕ № 13 (- выберите один вариант ответа)

Единственным переменным фактором является труд, остальные факторы – фиксированные

Число рабочих (чел.)	0	1	2	3	4	5	6
Выпуск продукции (шт.)	0	40	90	126	150	165	180

Предельный продукт начнет сокращаться при найме

а) 6-го рабочего

б) 4-го рабочего

в) 3-го рабочего

г) 2-го рабочего

д) 1-го рабочего

ЗАДАНИЕ № 14 (- выберите один вариант ответа)

Кривая, показывающая все сочетания переменных ресурсов, которые могут быть использованы при выпуске данного объема продукции, - это:

а) линия, определяющая долгосрочный путь расширения фирмы

б) изокванта

в) изокоста

г) линия оси абсцисс

ЗАДАНИЕ № 15 (- выберите один вариант ответа)

Любая точка, находящаяся либо на изокванте, либо на изокосте, означает:

а) количество производимого продукта

б) объем продукта в денежном выражении

в) сумму издержек производства

г) комбинацию физичерких объемов ресурсов.

Вариант2

ЗАДАНИЕ N 1 (- выберите один вариант ответа)

Абсолютное значение коэффициента эластичности спроса по цене равно 2. Это означает, что?

а) если цена товара возрастет на 1%, то величина спроса на него сократится на 0,5%

б) если цена товара повысится на 1%, то величина спроса на него повысится на 0,5%

в) если цена товара снизится на 1%, то величина спроса на него уменьшится на 2%

г) нет правильного ответа

ЗАДАНИЕ № 2 (- выберите один вариант ответа)

Кривая предложения сместится вправо, если

а) производитель товара получит субсидию от государства;

б) повысятся налоги на прибыль;

в) вырастет цена товара;

г) вырастет уровень инфляции.

ЗАДАНИЕ № 3 Если функции спроса и предложения заданы как $Q_d = 300 - P$ и $Q_s = -60 + 3P$, то цена при которой дефицита составит 160 шт. равна...

Решение: $300 - P + 60 - 3P = 160, P = 50$

ЗАДАНИЕ № 4 (- выберите один вариант ответа)

Если цена товара неэластичного спроса выросла с 7 до 8 д.е., то выручка?

а) сократилась б) **выросла** в) осталась неизменной

г) абсолютно неэластична д) абсолютно эластична

ЗАДАНИЕ № 5 (- выберите один вариант ответа)

Изменение какого фактора не вызывает сдвига кривой спроса:

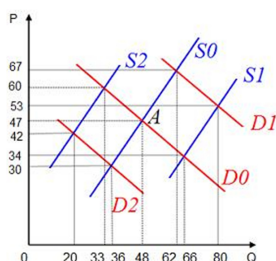
а) вкусов и предпочтений потребителей;

б) **цены товара;**

в) численности или возраста потребителей.

ЗАДАНИЕ № 6 (- выберите один вариант ответа)

Исходное равновесие на рынке данного товара соответствует точке А. Ожидается рост предложения данного товара под действием снижения цен на сырье, при этом государство сокращает налоги на потребителей этого товара. Вследствие этого в краткосрочном периоде равновесная цена установится на уровне ...



а) 34; б) **53** в) 42 г) 67

ЗАДАНИЕ № 7 Постройте графическую зависимость при:

$S(\text{предложение}) \uparrow > D(\text{спрос}) \downarrow$; $P(\text{равновесная цена}) \uparrow$; $Q(\text{равновесный объем}) \uparrow$.

Возможна ли данная ситуация?



Решение

ЗАДАНИЕ № 8 (- выберите один вариант ответа)

Под предельной полезностью понимается:

а) способность товаров и услуг удовлетворять человеческие потребности

б) субъективная оценка благ людьми

в) **добавочная полезность или удовлетворение, извлекаемое потребителем из одной дополнительной единицы конкретного продукта**

г) объективное свойство экономических благ

д) нижний предел цены

ЗАДАНИЕ № 9 (выберите один вариант ответа)

Чем определяется экономическая обособленность предприятия в рыночных условиях?

а) его функцией товаропроизводителя, осуществляющего собственный индивидуальный процесс воспроизводства

- б) наличием собственных основных производственных фондов.
- в) наличием собственных оборотных производственных фондов
- г) желанием предпринимателей

ЗАДАНИЕ № 10 (выберите один вариант ответа)

Прямая линия, показывающая все сочетания ресурсов, использование которых требует одинаковых затрат - это:

- а) оптимальная линия роста
- б) линия оси ординат

в) изокоста

- г) изокванта.

ЗАДАНИЕ № 11 (выберите один вариант ответа)

Изменение цены ресурса повлечет за собой новое равновесие:

- а) только на рынке данного ресурса
- б) только на рынке взаимозаменяемых ресурсов
- в) на рынках различных продуктов и ресурсов, включая те из них, которые прямо не связаны с производством и потреблением данного ресурса
- г) только на рынке данного ресурса и продукта, в производстве которого используется данный ресурс.**

ЗАДАНИЕ № 12 (выберите один вариант ответа)

Закон убывающей производительности действует при таких условиях, когда:

- а) постоянные издержки не изменяются.
- б) другие факторы производства остаются постоянными.**
- в) изменяется уровень технологии.
- г) все единицы переменного фактора являются неоднородными.

ЗАДАНИЕ № 13 (выберите один вариант ответа)

Изокванта иллюстрирует:

- а) кривую общего объема производства.
- б) кривую среднего продукта.
- в) кривую предельного продукта.

г) производственную функцию

ЗАДАНИЕ № 14 (выберите один вариант ответа)

Взаимосвязь между всеми возможными вариантами сочетаний факторов производства и объемом выпускаемой продукции выражается при помощи:

- а) линии производственных возможностей
- б) кривой общего объема выпуска продукции

в) производственной функции

- г) эластичности предложения

ЗАДАНИЕ № 15 (выберите один вариант ответа)

Одно из преимуществ акционерного общества (корпорации) заключается в том, что:

- а) его легко учредить
- б) не возникает никаких проблем с дележом прибыли
- в) возможна концентрация огромных денежных средств**
- г) имеют место налоговые льготы

ТЕСТ №4

Вариант 1

ЗАДАНИЕ N 1 (выберите один вариант ответа)

В краткосрочный период фирма производит 100 единиц товара при средних постоянных издержках 5 руб. Если средние переменные издержки сократятся с 20 до 10 рублей, то общие издержки...

- а) уменьшатся на 10 руб.
- б) возрастут на 10 руб.

в) увеличатся на 1000 руб.

г) сократятся на 1000 руб.

ЗАДАНИЕ N 2

Используя данные таблицы, рассчитайте предельные издержки производства третьей единицы продукции

Объем производства ед.	1	2	3
Валовые постоянные издержки руб.	30	30	30
Средние переменные издержки руб.	60	55	50

Решение: $50 \cdot 3 - 55 \cdot 2 = 40$

ЗАДАНИЕ N 3 (выберите один вариант ответа)

Если затраты обоих ресурсов увеличатся на 20%, а объем производства возрастет на 10%, то в этом случае имеется

а) фиксированная пропорция

б) положительный эффект масштаба

в) отрицательный эффект масштаба

г) постоянный эффект масштаба

ЗАДАНИЕ N 4 (выберите один вариант ответа)

Если фирма производит 4 ед продукции по цене 8 ден. ед. каждая, а постоянные издержки (TFC) равны 10 ден. ед., общие переменные издержки (TVC) равны 42 ден. ед, общая экономическая прибыль. Убыток составляет

а) -20 ден. ед. б) -10 ден. ед. в) 20 ден. ед. г) 32 ден. ед.

ЗАДАНИЕ N 5(выберите один вариант ответа)

Если график долгосрочных средних издержек LАТС является горизонтальной линией, то в отрасли имеет место

а) постоянный эффект масштаба

б) положительный эффект масштаба

в) возрастающая отдача от масштаба

г) отрицательный эффект масштаба

ЗАДАНИЕ N 6(выберите один вариант ответа)

Какая формула из перечисленных верна:

а) бухгалтерская прибыль = общий доход – альтернативные издержки;

б) экономическая прибыль = общий доход – явные издержки;

в) нормальная прибыль = общий доход – неявные издержки;

г) прибыль = совокупная выручка – совокупные издержки.

ЗАДАНИЕ N 7(выберите один вариант ответа)

В долгосрочном периоде деятельности фирмы все издержки считаются:

а) постоянными;

б) переменными;

в) общими;

г) предельными.

ЗАДАНИЕ N 8

Установите соответствие между названиями и характеристиками рыночных структур:

1. На сельскохозяйственном рынке продают капусту и морковь.

2. Большое количество поставщиков предлагают мебель для офисов.

3. В стране существует несколько сталелитейных заводов.

4. Городские тепловые сети обеспечивают население теплом.

а) монополистическая конкуренция

б) монополия

в) олигополия

г) совершенная конкуренция

Ответ: 1-г), 2-а), 3- в), 4-б)

ЗАДАНИЕ N 9 (- выберите один вариант ответа)

Если функция спроса на продукцию монополиста описывается уравнением $P = 42 - 2Q$, а функция общих затрат $TC = 10 + 2Q$, то максимальную прибыль он получит при цене и объеме продаж соответственно равных

а) 32 и 6

б) 22 и 10

в) 24 и 7

г) 28 и 9

Решение $MC = MR$

$$MC = TC' = (10 + 2Q)' = 2$$

$$MR = TR', TR = P \cdot Q = Q \cdot (42 - 2Q) = 42Q - 2Q^2$$

$$TR' = 42 - 4Q$$

$$42 - 4Q = 2$$

$$Q = 10, P = 22$$

ЗАДАНИЕ N10 (- выберите один вариант ответа)

Картель – это объединение предприятий .

а) для совместного размещения кредитов или осуществления совместного промышленного проекта с целью извлечения монопольных прибылей

б) путем установления финансового контроля над ними с помощью покупки контрольного пакета акций

в) предусматривающее соглашение по поводу установления монопольно высоких цен, размежевание рынков сбыта, установления определенного объема производства для всего картеля в целом и для его членов в частности

г) предусматривающее потерю его членами коммерческой самостоятельности

ЗАДАНИЕ N11 Для каждой ситуации, приведенной ниже, найдите соответствующий тип рыночной структуры —

а) совершенная конкуренция;

б) монополия;

в) монополистическая конкуренция;

г) олигополия;

д) монополия:

1) на рынке оперирует большое количество поставщиков, каждый из которых предлагает фирменную обувь по относительно схожим ценам;

2) на рынке оперирует единственный поставщик телекоммуникационных услуг;

3) большое количество фермеров предлагает на рынке картофель по одинаковым ценам;

4) несколько крупных фирм функционируют на рынке угледобывающего оборудования;

5) имеется единственный покупатель угледобывающего оборудования;

б) единственная фирма производит штурманские приборы.

Ответ: а-3, б-2, в-1 г-4 д-5

ЗАДАНИЕ N 12(- выберите несколько вариантов ответа)

Объектами купли-продажи на рынке факторов производства выступают...

а) труд

б) продукты питания

в) земля и другие природные ресурсы

г) потребительские товары длительного пользования

ЗАДАНИЕ N 13

Установите соответствие между типом рыночной структуры и количеством нанимаемых работников и ставкой их заработной платы.

1. Совершенная конкуренция

2. Монополия

3. Монополия

- а) повышение ставки заработной платы и увеличение количества рабочих
- б) снижение ставки заработной платы и уменьшение количества рабочих
- в) повышение ставки заработной платы и уменьшение количества рабочих
- г) двусторонний контроль над ценами и установление промежуточного

уровня оплаты труда и занятости

д) нанимается такое количество рабочих, чтобы предельный доход труда равнялся ставке заработной платы ($MRPL=W$)

1- д), 2-в) 3- б)

ЗАДАНИЕ N 14 (- выберите один вариант ответа)

В соответствии с теорией предельной производительности кривая спроса на труд на конкурентном рынке:

- а) совпадает с кривой предельных издержек на оплату труда;**
- б) совпадает с кривой предельного продукта труда;
- в) совпадает с кривой предельного продукта труда в денежном выражении;
- г) не зависит от стоимости производимого продукта;
- д) совпадает с кривой предельных издержек производимого продукта.

ЗАДАНИЕ N 15 Определите, верны (В) или неверны (Н) следующие утверждения

1. Рынок, на котором господствует один покупатель, называется монополией.
2. Индивидуальное предложение труда может сокращаться при росте ставки заработной платы.

1 (В), 2 (В)

Вариант 2

ЗАДАНИЕ N 1 (выберите несколько вариантов ответа)

К долгосрочному периоду *не относятся* следующие изменения в составе производственных ресурсов фирмы...

- а) строительство нефтеперерабатывающей установки
- б) увеличение количества удобрений на фермерском участке**
- в) ввод в эксплуатацию новой поточной линии
- г) привлечение 20-ти дополнительных рабочих**

ЗАДАНИЕ N 2

Станкостроительный завод производства в год 500 станков по 20 тыс. рублей каждый. Затраты на производство одного станка равны 16 тыс. рублей. Если себестоимость станка уменьшится на 1 тыс. рублей, то прибыль завода возрастет на ___ рублей.

Решение: 1тыс. руб. · 500=500 тыс. руб

ЗАДАНИЕ N 3 (выберите один вариант ответа)

Разность между совокупной выручкой и внешними издержками есть:

- а) бухгалтерская прибыль;**
- б) экономическая прибыль;
- в) нормальная прибыль;
- г) реальная прибыль.

ЗАДАНИЕ N 4 (выберите один вариант ответа)

В краткосрочном периоде деятельности фирмы все издержки являются:

- а) альтернативными;
- б) постоянными и переменными;**
- в) неявными;
- г) явными.

ЗАДАНИЕ N 5 (- выберите один вариант ответа)

Какой основной фактор лежит в основе классификации издержек на постоянные и переменные:

- а) затраты на оплату рабочей силы;
- б) количество выпускаемой продукции;**
- в) затраты на оплату сырья;

г) затраты связанные с использованием зданий и сооружений.

ЗАДАНИЕ N 6 (*выберите один вариант ответа*)

Выбрать перечень издержек, содержащий один вид неявных издержек и два вида явных

- а) процент на депозит, зарплата на соседнем предприятии, аренда помещения
- б) процент по кредиту, зарплата на соседнем предприятии, аренда собственного помещения

в) процент по кредиту, зарплата, процент по депозиту

- г) аренда помещения, зарплата, процент по кредиту
- д) амортизация, расходы на сырье, аренда помещения.

ЗАДАНИЕ N 7 (*- выберите один вариант ответа*)

Какое из следующих выражений представляет собой общие издержки?

- а) ΔMC
- б) $TVC - TFC$
- в) $TFC + TVC$**
- г) $TFC + TVC + MC$
- д) $(TFC + TVC) : Q$.

ЗАДАНИЕ N 8

Установите соответствие между названиями и характеристиками рыночных структур:

1. Фермеры торгуют на рынке яблоками и другими фруктами.
2. Большое количество поставщиков предлагают мягкую мебель.
3. Коммерческие банки обслуживают население города.
4. В микрорайоне существует единственная аптека.

- а) монополия
- б) монополистическая конкуренция
- в) совершенная конкуренция
- г) олигополия

Ответ: 1-в,2-б,3-г,4-а

ЗАДАНИЕ N 9 (*- выберите один вариант ответа*)

Если функция спроса на продукцию монополиста описывается уравнением $P = 120 - 0,5Q$, а функция общих затрат $TC = 12 + 5Q$, то максимальную прибыль он получит при цене и объеме продаж соответственно равных

- а) 43 и 215
- б) 62,5 и 115**
- в) 265,5 и 110
- г) 74,5 и 95

Решение: $MC = MR$

$$MC = TC' = (12 + 5Q)' = 5$$

$$MR = TR', TR = P \cdot Q = Q \cdot (120 - 0,5Q) =$$

$$= 120Q - 0,5Q^2$$

$$TR' = 120 - Q$$

$$120 - Q = 5$$

$$Q = 115, P = 62,5$$

ЗАДАНИЕ N 10 (*- выберите несколько вариантов ответа*)

К естественным монополиям в РФ относятся...

- а) производство чугуна и стали
- б) образовательные услуги
- в) железнодорожные перевозки**
- г) услуги по передаче электрической тепловой энергии

ЗАДАНИЕ N 11 Определите типы рыночных структур:

- 1). Небольшое количество фирм производит однородную продукцию, осуществляя частичный контроль над ценами.

- 2). Большое количество компаний производит различную продукцию при очень слабом контроле над ценами.
- 3). Определенный продукт изготавливается одной компанией с высокой степенью контроля над ценами.
- 4). В США 50 самых мощных компаний осуществляют 94% выпуска различных продуктов нефтепереработки.
- 5). В авиастроении США на долю 8 крупнейших фирм приходится 81% продаж.
 - а) монополия
 - б) монополистическая конкуренция
 - в) совершенная конкуренция
 - г) олигополия

Ответ: 1-г, 2- б, 3-а, 4-г, 5-г

ЗАДАНИЕ N 12 (*выберите один вариант ответа*)

Спрос на факторы производства отличается от спроса на продукт его

- а) стабильность
- б) низкая эластичность
- в) высокая эластичность
- г) производный характер

ЗАДАНИЕ N 13

Установите соответствие типов рыночной структуры и их характеристик.

1. Конкурентный рынок труда
2. Монополистический рынок труда
3. Монополия на рынке труда

а) на рынке действует единственная фирма, которая является покупателем ресурса или его услуг, предлагаемых на этом рынке

б) на рынке предлагается множество различных услуг труда множеству покупателей

в) продавец обеспечивает все предложение на рынке данного ресурса, у которого мало заменителей

г) на рынке действует несколько фирм, являющихся покупателями данного ресурса

1 б) 2 а) 3 в)

ЗАДАНИЕ N 14 (*выберите один вариант ответа*)

Предельные издержки на оплату труда:

- а) представляют собой увеличение переменных издержек при увеличении объема выпускаемой продукции на единицу;
- б) представляет собой увеличение постоянных издержек при увеличении объема выпускаемой продукции на единицу;
- в) абсолютно неэластичны для монополиста;
- г) **представляют собой увеличение общих издержек на труд при найме дополнительного рабочего.**

ЗАДАНИЕ N 15 Определите, верны (В) или неверны (Н) следующие утверждения

1. Предложение труда для конкурентной фирмы является абсолютно неэластичным.
2. Повышение ставок заработной платы выше равновесного уровня под давлением профсоюзов сопровождается уменьшением занятости.

1 (Н), 2 (В)

Критерии оценки:

1. Полнота знаний теоретического контролируемого материала.

2. Количество правильных ответов.

Каждый правильный ответ оценивается в 1 балл. Максимальный балл – 15, минимальный – 9.

РАЗДЕЛ: «Макроэкономика»

ТЕСТ № 5

Вариант 1

ЗАДАНИЕ N 1 (*выберите один вариант ответа*)

Под дефляцией понимается :

- а) устойчивая тенденция к снижению ВВП
- б) устойчивая тенденция к росту безработицы и инфляции
- в) устойчивая тенденция к повышению общего уровня цен
- г) устойчивая тенденция к снижению общего уровня цен**

ЗАДАНИЕ N 2 (*выберите один вариант ответа*)

В состав ВНД включается:

- а) покупка буханки хлеба в булочной**
- б) услуги домашней хозяйки
- в) покупка акций «ГАЗПРОМА»
- г) покупка картины художника XVIII века

ЗАДАНИЕ N 3 (*выберите один вариант ответа*)

Верхним ограничителем колебаний экономического роста является :

- а) величина инвестиций
- б) потенциальный ВВП**
- в) величина государственных расходов
- г) величина государственного долга

ЗАДАНИЕ N 4 (*выберите один вариант ответа*)

Государственные закупки учитываются при исчислении ВВП методом:

- а) доходов
- б) доходов и расходов
- в) добавленной стоимости
- г) расходов**

ЗАДАНИЕ N 5

Если отклонение реального ВВП от потенциального составляет 4% , а потенциальный объем выпуска составил 5800 млрд. д. ед. , тогда страна недопроизводит _____ млрд. д.ед. ВВП

Решение: $0,04 \cdot 5800=232$

ЗАДАНИЕ N 6 (*выберите один вариант ответа*)

Вмешательство государства по стимулированию совокупного спроса на классическом отрезке кривой совокупного предложения не приведет

- а) незначительному изменению объемов производства
- б) значительному увеличению объемов производства**
- в) росту цен
- г) сдвигу кривой предложения вправо вверх

ЗАДАНИЕ N 7 (*выберите один вариант ответа*)

К неценовым факторам, влияющим на совокупный спрос не относят

- а) цены на ресурсы**
- б) процентные ставки
- в) условия на внешних рынках
- г) благосостояние потребителей

ЗАДАНИЕ N 8 (*выберите один вариант ответа*)

Сдвиг кривой совокупного спроса вправо не может отражать

- а) повышение уровня цен и реального объема ВВП одновременно
- б) повышение уровня цен при отсутствии роста реального объема ВВП
- в) рост реального объема ВВП при отсутствии повышения цен
- г) повышение уровня цен и падение реального объема ВВП одновременно**

д) все предыдущие ответы неверны.

ЗАДАНИЕ N 9 (выберите один вариант ответа)

Результаты сдвига кривой совокупного спроса влево и вправо одинаковы, если

а) этот сдвиг происходит на горизонтальном отрезке кривой совокупного предложения

б) этот сдвиг происходит на вертикальном отрезке кривой совокупного предложения

в) этот сдвиг происходит на промежуточном отрезке кривой совокупного предложения.

ЗАДАНИЕ N 10 (выберите один вариант ответа)

Кривая Филлипса, отражающая зависимость между инфляцией и безработицей в долгосрочном периоде будет..

а) горизонтальной линией

б) линией с отрицательным наклоном

в) линией с положительным наклоном

г) вертикальной линией

ЗАДАНИЕ N 11 (выберите один вариант ответа)

Уровень безработицы в ходе циклического развития экономики развивается в направлении

а) независимом от роста объема производства

б) обратном росту реальному ВВП

в) соответствующему росту реальному ВВП

г) сохранения естественного уровня безработицы

ЗАДАНИЕ N 12 (выберите один вариант ответа)

В процессе циклического развития уровень занятости изменяется в направлении

а) соответствующему изменению номинального ВВП

б) соответствующему изменению реального объема производства

в) обратному изменению номинального ВВП

г) обратному изменению реального объема производства

ЗАДАНИЕ N 13 (выберите один вариант ответа)

В качестве основного классификационного признака экономических циклов выделяют

а) причинная обусловленность

б) тип экономической политики

в) периодичность цикла

г) механизм протекания

ЗАДАНИЕ N 14 (выберите один вариант ответа)

Если в стране в 2014 году потребительские расходы домохозяйств составляли 200 млн.лир при располагаемом доходе в 240 млн.лир, а в 2015 году соответственно 265 млн.лир и 340 млн.лир, то предельная склонность к потреблению равна...

а) 0,75 б) 0,78 в) 0,83 г) **0,65**

Решение: $MPC = \frac{\text{изменение в потреблении}}{\text{изменение располагаемого дохода}} = \frac{\Delta C}{\Delta Y} = \frac{265-200}{340-240} = 0,65$

ЗАДАНИЕ 15

Если уравнение потребления имеет вид $C=100+0,75Y$, где(Y- совокупный объем производства и доходов), то при уменьшении автономных потребительских расходов на 20 млн.руб равновесный ВВП уменьшится на ___ млн.руб.

Решение: $MR = \frac{1}{1-MPC} = \frac{1}{1-0,75} = 4, \Delta Y = MR \cdot \Delta C = 4 \cdot 20 = 80$ млн.руб.

Вариант 2

ЗАДАНИЕ N 1 (выберите один вариант ответа)

Невозможно учесть при расчете ВВП, но следует включить в показатель «чистое экономическое благосостояние» такой элемент как:

а) оплата в виде чаевых

б) заработная плата рабочих и служащих фирмы

в) доход предпринимателя

г) прибыль фирмы

ЗАДАНИЕ N 2 (выберите один вариант ответа)

Валовые инвестиции, являющиеся компонентом ВВП, равны:

а) разнице между государственными и частными инвестициями

б) сумме чистых частных инвестиций и амортизации

в) сумме государственных и частных инвестиций

г) разнице между чистыми частными инвестициями и амортизацией

ЗАДАНИЕ N 3 (выберите один вариант ответа)

Для расчета чистого внутреннего продукта необходимо из показателя ВВП:

а) вычесть косвенные налоги на бизнес

б) вычесть чистые инвестиции

в) вычесть величину амортизации

г) вычесть валовые инвестиции

ЗАДАНИЕ N 4 (выберите несколько вариантов ответа)

В расчете ВВП по доходам учитываются следующие показатели

а) налог на добавленную стоимость

б) отчисление работодателей на социальное страхование

в) потребление совокупного капитала (амортизация)

г) стоимость приобретенного жилья

ЗАДАНИЕ N 5

Отклонение реального ВВП от потенциального составляет 2 %, фактический объем выпуска составил 196 млрд. д. ед.. Тогда потенциально возможный ВВП составит ...

Решение: $19600 : 98 = 200$ млрд.д.ед.

ЗАДАНИЕ N 6 (выберите один вариант ответа)

Если уровень цен растет, а производство падает, то это вызвано?

а) смещением кривой совокупного спроса вправо

б) смещением кривой совокупного спроса влево

в) смещением кривой совокупного предложения влево

г) смещением кривой совокупного предложения вправо.

ЗАДАНИЕ N 7 (выберите один вариант ответа)

Если государство ужесточает требования к сохранению окружающей среды, это вызывает

а) рост издержек производства на единицу продукции и смещение кривой совокупного предложения вправо

б) рост издержек производства на единицу продукции и смещение кривой совокупного предложения влево

в) рост издержек производства на единицу продукции и смещение кривой совокупного спроса влево.

ЗАДАНИЕ N 8 (выберите один вариант ответа)

Если объем равновесного ВВП оказывается больше его потенциального уровня, то

а) уровень цен повысится б) уровень безработицы повысится

в) автоматически увеличится совокупное предложение.

ЗАДАНИЕ N 9 (выберите один вариант ответа)

Кривая совокупного спроса выражает отношение между

а) уровнем цен и совокупными расходами на покупку товаров и услуг

б) уровнем цен и произведенным ВВП в реальном выражении

в) уровнем цен, который признают покупатели, и уровнем цен, который удовлетворяет продавцов.

ЗАДАНИЕ N 10

Определите соответствие между формами безработицы и их причинами

1. Фрикционная

2. Структурная

3. Циклическая

- а) спад в экономике и банкротства предприятий
- б) изменение технологий и появление новых продуктов
- в) поиск и ожидание работы

Ответ: 1 в), 2б), 3а)

ЗАДАНИЕ N 11 (выберите один вариант ответа)

Номинальные и реальные доходы выросли в среднем на 5 и 2 % соответственно, тогда уровень инфляции составил

- а) 2,5%
- б) 3%**
- в) 7%
- г) 10%

ЗАДАНИЕ N 12

Определите соответствие описываемых индивидов категории занятости

1. Домохозяйка живущая за счет мужа и занятая выполнением домашней работы и воспитанием детей
2. Преподаватель школы ,увеличившаяся, чтобы пройти краткосрочное обучение и найти работу парикмахера
3. Водитель автобуса, получающий заочное высшее образование
 - а) безработные
 - б) не входящие в рабочую силу
 - в) занятые

Ответ: 1б), 2а), 3в)

ЗАДАНИЕ N 13 (выберите один вариант ответа)

В случае подъема наблюдается

- а) рост темпов экономического роста**
- б) массовое обновление основного капитала
- в) достижение предкризисного уровня развития
- г) затоваривание

ЗАДАНИЕ N 14 (выберите один вариант ответа)

Если функция сбережения $S = -200 + 0,3Y$, предельная склонность к потреблению...

- а) 0,07 **б) 0,7** в) 0,3 г) 0,03

ЗАДАНИЕ N 15 (выберите один вариант ответа)

Если в стране в 2014 году потребительские расходы домохозяйств составляли 260млн.д.ед. при располагаемом доходе в 300млн.ден.ед., а в 2015 году соответственно 290млн.д.ед. и 340млн.д.ед., то предельная склонность к потреблению равна...

- а) 0,85 б) 0,88 **в) 0,75** г) 0,9

Решение:

$$MPC = \frac{\text{изменение в потреблении}}{\text{изменение располагаемого дохода}} = \frac{\Delta C}{\Delta Y} = \frac{290 - 260}{340 - 300} = 0,75$$

ТЕСТ № 6

Вариант 1

ЗАДАНИЕ N 1 (выберите несколько вариантов ответа)

В России к денежному агрегату M0 относится

- а) остатки денег в кассах предприятий**
- б) деньги на расчетных счетах предприятий
- в) наличные деньги в обращении**
- г) деньги населения, на текущих счетах в банке

ЗАДАНИЕ N 2 (выберите несколько вариантов ответа)

Жесткая монетарная политика реализуется через

- а) повышение нормы резервирования
- б) продажу центральным банком ценных бумаг на открытом рынке
- в) покупку центральным банком ценных бумаг на открытом рынке
- г) снижение ставки рефинансирования

ЗАДАНИЕ N 3 (выберите один вариант ответа)

Банки, осуществляющие операции по выпуску и размещению ценных бумаг, называют

- а) инвестиционными
- б) сберегательными
- в) ипотечными
- г) коммерческими

ЗАДАНИЕ N 4 (выберите несколько вариантов ответа)

Согласно классической теории спроса на деньги, спрос на деньги существует в связи с необходимостью

- а) использования денег как средство образования сокровищ
- б) использование денег как средства платежа
- в) использование денег как средства обращения
- г) избежать потерь капитала из-за изменения его стоимости

ЗАДАНИЕ N 5 (выберите несколько вариантов ответа)

Политика «дешевых денег»

- а) проводится в период подъема
- б) проводится в период спада
- в) направлена на борьбу с безработицей
- г) направлена на борьбу с инфляцией

ЗАДАНИЕ N 6 (выберите один вариант ответа)

Фискальная политика является дискреционной, если при прочих равных условиях целенаправленно изменяют

- а) продолжительность выплат пособий по безработице
- б) ставки налогообложения
- в) расходы государства по обслуживанию госдолга
- г) объем денежной массы

ЗАДАНИЕ N 7 (выберите один вариант ответа)

Ярко выраженная антиинфляционная фискальная политика предполагает

- а) повышение уровня налогообложения и сокращение государственных расходов
- б) сокращение и налоговых поступлений, и государственных расходов
- в) рост налогов и более высокий уровень государственных расходов
- г) снижение налогов и более высокий уровень государственных расходов
- д) постоянство уровня и государственных расходов, и налоговых поступлений.

ЗАДАНИЕ N 8 (выберите один вариант ответа)

Правительства большинства стран применяют прогрессивное налогообложение личных доходов граждан, так как

- а) это значительно увеличивает поступления в государственный бюджет
- б) нельзя допустить слишком большого разрыва в доходах, поскольку он может вызвать социальный взрыв
- в) этим чиновники пытаются уравнивать свои фиксированные заработки с растущими предпринимательскими доходами.

ЗАДАНИЕ N 9 (выберите один вариант ответа)

К прямым налогам относится налог

- а) на прибыль предприятия
- б) на добавленную стоимость
- в) на золотые изделия
- г) государственная пошлина.

ЗАДАНИЕ N 10 (выберите один вариант ответа)

К косвенным налогам относится

- а) подоходный налог с населения
- б) с наследства и дарений
- в) на прирост капитала
- г) **таможенные пошлины**

ЗАДАНИЕ N 11 . (выберите один вариант ответа)

Производительность труда измеряется отношением

- а) затрат капитала к затратам труда
- б) реального объема продукта к количеству часов рабочего времени
- в) **реального объема продукта к численности населения**
- г) количества часов рабочего времени к реальному объему ВВП
- д) затрат капитала к реальному объему продукта.

ЗАДАНИЕ N 12 . (выберите один вариант ответа)

Что из перечисленного ниже не оказывает влияния на рост производительности труда

- а) технологические изменения
- б) **увеличение количества работников**
- в) уровень образования и квалификации работников
- г) эффект масштаба производства
- д) уровень организации производства.

ЗАДАНИЕ N 13 (выберите один вариант ответа)

Экономический рост может быть проиллюстрирован

- а) сдвигом влево кривой производственных возможностей
- б) **сдвигом вправо кривой производственных возможностей**
- в) движением точки по кривой производственных возможностей
- г) движением от одной точки к другой внутри кривой производственных возможностей
- д) движением от одной точки к другой за пределами кривой производственных возможностей.

ЗАДАНИЕ N 14 (выберите один вариант ответа)

В модели «AD—AS» экономический рост может быть представлен как

- а) сдвиг влево кривой AS
- б) сдвиг вправо кривой AD
- в) сдвиг влево кривой AD
- г) **сдвиг вправо кривой AS**
- д) все предыдущие ответы неверны.

ЗАДАНИЕ N 15 . (выберите один вариант ответа)

При сравнении уровней благосостояния людей разных стран наибольшее значение придается показателю

- а) численности занятых в производстве
- б) величине средней заработной платы
- в) **валовому национальному продукту на душу населения**
- г) абсолютной величине валового национального продукта.

Вариант 2

ЗАДАНИЕ N 1 (выберите один вариант ответа)

Деньги служат

- а) средством обращения
- б) средством сохранения ценности
- в) счетной единицей
- г) **все предыдущие ответы верны**
- д) все предыдущие ответы неверны.

ЗАДАНИЕ N 2 (выберите один вариант ответа)

Спрос на деньги для сделок изменяется следующим образом

- а) возрастает при увеличении процентной ставки
- б) возрастает при снижении процентной ставки
- в) снижается по мере роста номинального объема ВВП
- г) снижается при уменьшении номинального объема ВВП**
- д) все предыдущие ответы неверны.

ЗАДАНИЕ N 3 (выберите один вариант ответа)

Понятие «спрос на деньги» означает

- а) желание держать ценные бумаги, которые при необходимости могут быть легко обращены в деньги по фиксированной цене
- б) сумму денег, которую предприниматели хотели бы использовать для предоставления кредита при данной процентной ставке
- в) желание запасать часть дохода на «черный день»
- г) то же, что и спрос на деньги со стороны активов
- д) то же, что и сумма спроса на деньги для сделок и спроса на деньги со стороны активов.**

ЗАДАНИЕ N 4 (выберите один вариант ответа)

Спрос на деньги со стороны активов предъявляется в связи с тем, что деньги являются

- а) средством обращения
- б) счетной единицей
- в) средством сохранения ценности**
- г) все предыдущие ответы верны
- д) по другим причинам.

ЗАДАНИЕ N 5 (выберите один вариант ответа)

Если деньги для сделок совершают в среднем 5 оборотов в год, то количество денег, необходимых для обслуживания обмена, на которое предъявляется спрос

- а) в 5 раз больше номинального объема ВВП
- б) составляет 20% номинального ВВП
- в) равно отношению: 5 / номинальный объем ВВП
- г) равно отношению: 20% / номинальный объем ВВП**
- д) равно отношению: 20% / 5.

ЗАДАНИЕ N 6 (выберите один вариант ответа)

Если экономика находится в состоянии равновесия, то

- а) потребительские расходы должны быть равны инвестициям
- б) доходы предпринимателей должны быть равны валовым инвестициям
- в) всякое увеличение потребительских расходов должно приводить к инфляционному разрыву
- г) бюджеты всех уровней должны быть сбалансированы
- д) все предыдущие ответы неверны.**

ЗАДАНИЕ N 7 (выберите один вариант ответа)

Правительственная политика в области расходов и налогообложения называется

- а) политикой, основанной на количественной теории денег
- б) монетарной политикой
- в) деловым циклом
- г) фискальной политикой**
- д) политикой распределения доходов.

ЗАДАНИЕ N 8 (выберите один вариант ответа)

Наиболее существенная причина экономического роста в развитых странах — это

- а) увеличение объема рабочего времени
- б) технологические изменения в производстве**
- в) увеличение объема применяемого капитала

- г) реализация денежно-кредитной и фискальной политики, способствующей экономическому росту
- д) рост квалификации рабочей силы.

ЗАДАНИЕ N 9 (выберите один вариант ответа)

Какая из перечисленных ниже стран достигла в последние четыре десятилетия наиболее высоких темпов экономического роста

- а) Великобритания
- б) Италия
- в) Япония**
- г) ФРГ
- д) США.

ЗАДАНИЕ N 10 (выберите один вариант ответа)

Повышение совокупного спроса может стать следствием

- а) уровня налогов
- б) трансфертных платежей**
- в) дефицита государственного бюджета.

ЗАДАНИЕ N 11 (выберите один вариант ответа)

В модели «AD—AS» экономический рост может быть представлен как

- а) сдвиг влево кривой AS
- б) сдвиг вправо кривой AD
- в) сдвиг влево кривой AD
- г) сдвиг вправо кривой AS**
- д) все предыдущие ответы неверны.

ЗАДАНИЕ N 12 . (выберите один вариант ответа)

При сравнении уровней благосостояния людей разных стран наибольшее значение придается показателю

- а) численности занятых в производстве
- б) величине средней заработной платы
- в) валовому национальному продукту на душу населения**
- г) абсолютной величине валового национального продукта.

ЗАДАНИЕ N 13(выберите один вариант ответа)

Предположим, что в экономике занято 50 рабочих, каждый из которых работает 3000 часов в год. Производительность труда составляет 8 д.е. в час. Общий объем произведенного продукта составит

- а) 150 000 д.е.
- б) 750 000 д.е.
- в) 1 000 000 д.е.
- г) 1200 000 д.е.
- д) 1 400 000 д.е.

ЗАДАНИЕ N 14 (выберите один вариант ответа)

Если Великобритания имеет сравнительное преимущество в производстве автомобилей перед Францией, то

- а) специализация и торговля автомашинами между Великобританией и Францией невыгодны
- б) альтернативная стоимость производства автомобилей в Великобритании выше, чем во Франции
- в) альтернативная стоимость производства автомобилей в Великобритании ниже, чем во Франции**
- г) Великобритании будет выгодно снижение спроса на автомобили.

ЗАДАНИЕ N 15 (выберите один вариант ответа)

Торговый баланс представляет собой

- а) всю сумму годового экспорта товаров
- б) всю сумму годового импорта товаров
- в) разницу между стоимостью национального экспорта и импорта**
- г) разницу между доходами и расходами государства.

Критерии оценки:

1. Полнота знаний теоретического контролируемого материала.

2. Количество правильных ответов.

Каждый правильный ответ оценивается в 1 балл. Максимальный балл – 15, минимальный – 9.